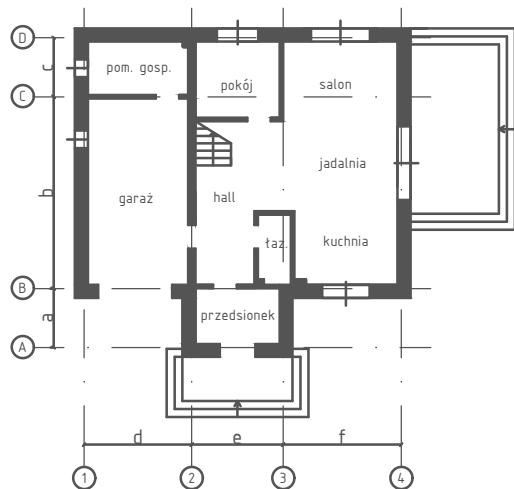


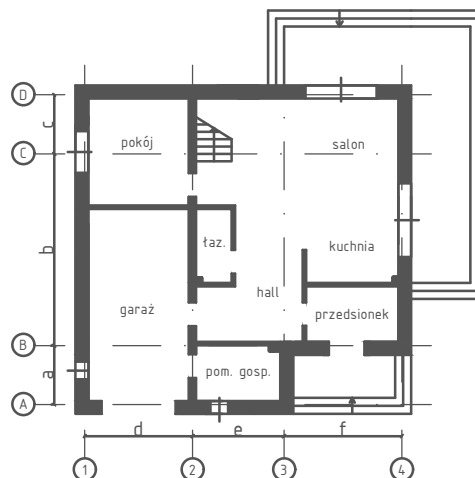
## PRACA RYSUNKOWA NR 4: Rzut parteru wolnostojącego domu jednorodzinnego

Dane są schematyczne rzuty parterów budynków mieszkalnych. Na podstawie schematu wg wersji wskazanej przez nauczyciela, wykonaj w podziale 1:50 rzut architektoniczno-budowlany kondygnacji stosując właściwie oznaczenia i wymiarowanie.

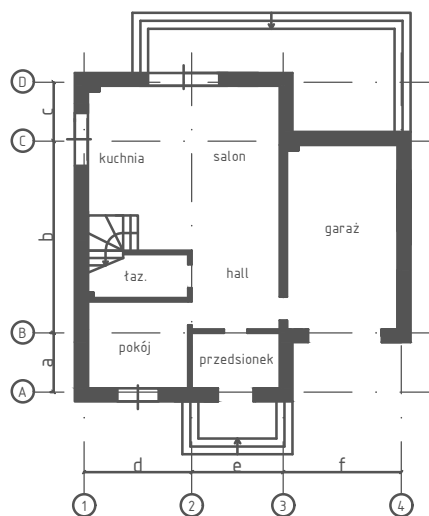
a)



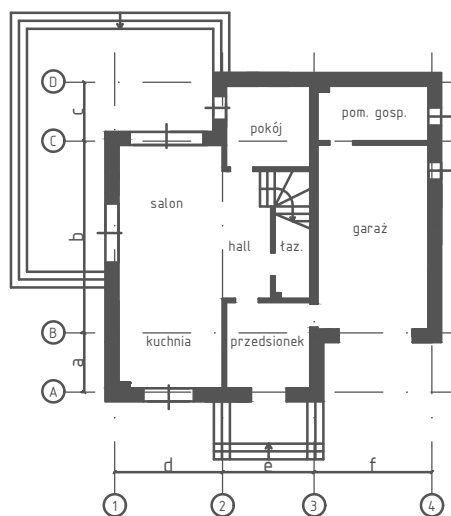
b)



c)



d)



Wersje wymiarowe (wszystkie wymiary w mm):

wersja	a	b	c	d	e	f	wersja	a	b	c	d	e	f
1	2000	6500	2000	3600	3000	4000	8	2000	5800	2500	3600	3000	4000
2	2500	6500	2000	3600	2600	4800	9	2500	5800	2500	3600	2600	4800
3	2000	5800	2500	3600	3200	4400	10	2000	6500	2000	3600	3200	4400
4	2500	5800	2500	3600	3000	4000	11	2500	6500	2000	3600	3000	4000
5	2000	6500	2000	3600	2600	4800	12	2000	5800	2500	3600	2600	4800
6	2500	6500	2000	3600	3200	4400	13	2500	5800	2500	3600	3200	4400
7	2000	5800	2500	3600	3000	4000	14	2500	5800	2000	3600	3000	4000